



KULLEĠĠ SAN NIKOLA
SEKONDARJA RABAT
EŻAMIJIET TA' NOFS IS-SENA

Marka

Frar 2017

Is-Seba' Sena

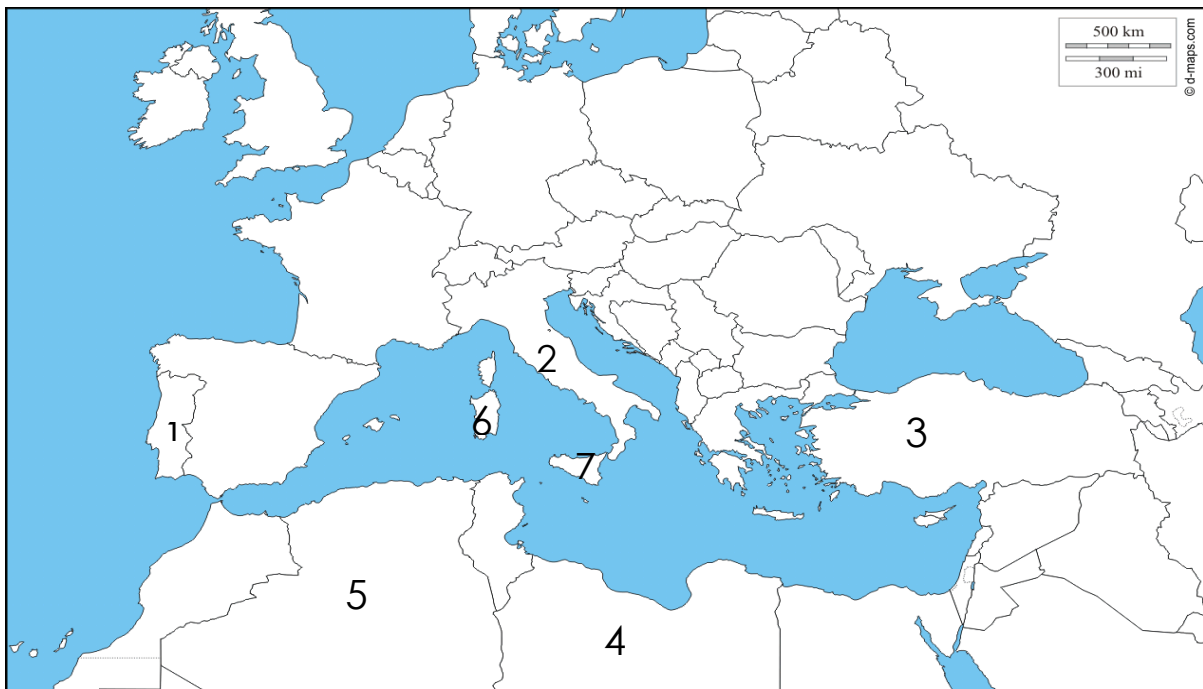
IL-ĠEOGRAFIJA

HIN: Siegħa u nofs

Isem: _____ Klassi: _____ Numru tar-registru: _____

Wieġeb il-mistoqsijiet kollha

1) Disinn numru 1 juri mappa tal-Baħar Mediterran



Disinn 1

a) Fuq il-mappa (Disinn 1) ikteb Baħar Mediterran fil-post it-tajjeb. (1)

b) Fuq il-mappa tal-Baħar Mediterran (Disinn 1), immarka b'dawn l-ittri dawn iż-żewġ

fethiet:

i) L-istrett ta' Ġibiltà' – bl-ittra A

ii) Il-Dardanelli – bl-ittra B

(4)

ċ) Ikteb l-isem tal-pajjiżi mmarkati minn 1 sa 5 fuq il-mappa tal-Baħar Mediterran.

Numru tal-pajjiż	Isem tal-pajjiż
1	
2	
3	
4	
5	

(5)

d) Fil-Baħar Mediterran hemm ħafna gżejjer. Ikteb x'jisimhom dawn il-gżejjer:

Numru tal-gżira	Isem il-gżira
6	
7	

(2)

e) Fuq il-mappa tal-Baħar Mediterran (Disinn 1), immarka b'dawn l-ittri dawn it-tliet

pajjiżi li jagħmlu parti mill-Unjoni Ewropeja:

i) Franża – bl-ittra Ċ

ii) Il-Ġermanja- bl- ittra D

iii) Il-Belġju – bl-ittra E

(6)

f) Aqta' linja taħt il-belt kapitali t-tajba:

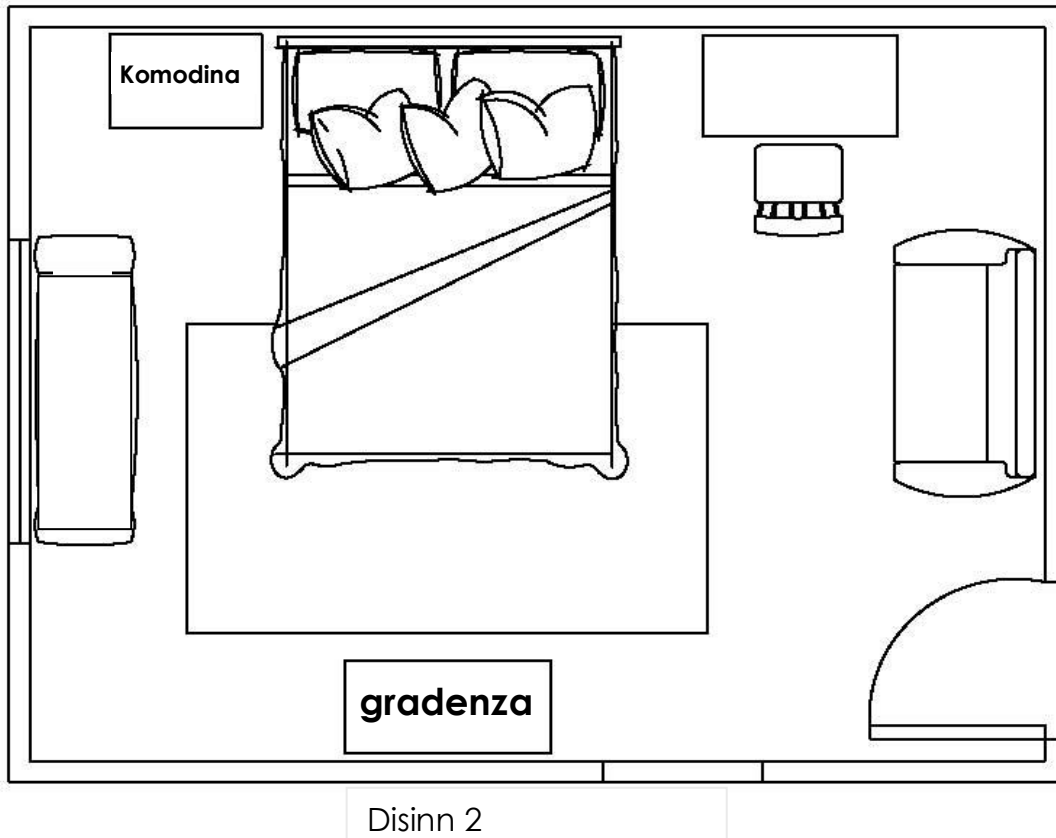
i) Il-belt kapitali tal-Libja hija (Tripli, Parigi, Ruma).

ii) Il-belt kapitali tal-Greċja hija (Nikosija, Ateni, Madrid).

iii) Il-belt kapitali ta' Tuneżija hija (Tirana, Tuneż, Tripli).

(3)

2) Disinn numru 2 juri l-pjanta ta' kamra tas-sodda.



Disinn 2

a) Fuq il-pjanta (Disinn 2) immarka billi tikteb dawn li ġejjin:

- Il-gwardarobba
- Is-siġġu
- Is-sufan
- It-tapit
- Is-sodda
- L-iskrivanija

(6)

b) Fuq l-iskrivanija pingi pjanta ta' ktieb miftuħ.

(1)

ċ) Pingi pjanta ta' mejda tonda ħdejn is-sufan.

(1)

d) Immarka bl-ittra A fejn jinsab il-bieb.

(1)

3 a) Imla d-dettalji vojta tat-tabella t'hawn taħt, billi tuża l-ħames saffi tal-blat ta' Malta.

It-Tafli

Il-Globiġerina

Ir-Rina jew il-Ġebbla s-Safra

L-Qawwi ta' Fuq

Il-Qawwi ta' Taħt jew iż-Żonqor

	Tagħrif dwar is-saffi tal-blat	L-isem it-tajeb tal-blat
i	Dan huwa l-ewwel saff li ġie ddepożitat fil-Baħar Tethys.	
ii	Jagħmluh fil-forn biex jagħmlu l-fuħħar.	
iii	Jinqata' fil-barrieri u minnu jagħmlu blokok u ċangaturi biex jibnu knejjes u djar.	
iv	Dan hu l-idjaq saff ta' blat u mimli b'fossili ta' ħlejjaq tal-baħar.	
v	Jittiekel malajr u jifforma ħamrija taflija.	
vi	Poruż imma jsir impermeabbli meta jixxarrab.	
vii	Jittiekel malajr, jitfarrak u jsir ramel. Hu magħmul mir-ramel imwaħħal ma' xulxin.	
viii	Din hija l-aħħar ġebbla li ffurmat.	

(8)

b) Aqra sew dan it-tagħrif u ħdejn kull sentenza iktib **Veru** jew **Falz**.

i	Malta hi magħmula minn blat vulkaniku.	
ii	Il-Baħar Mediterran tal-imgħoddi kien jissejjaħ l-Baħar Tethys.	
iii	Il-blat sedimentarju normalment jifforma f'saffi.	
iv	Il-blat ta' Malta fih ħafna fossili, li huma fdalijiet tal-ħlejjaq li kienu jgħixu fil-baħar miljuni ta' snin ilu.	
v	Xjenzati li jistudjaw il-blat jissejħu meteoroloġisti.	

(5)

ċ) Agħti t-tifsira ta' dawn il-frazzjiet:

Blat permeabbli: _____

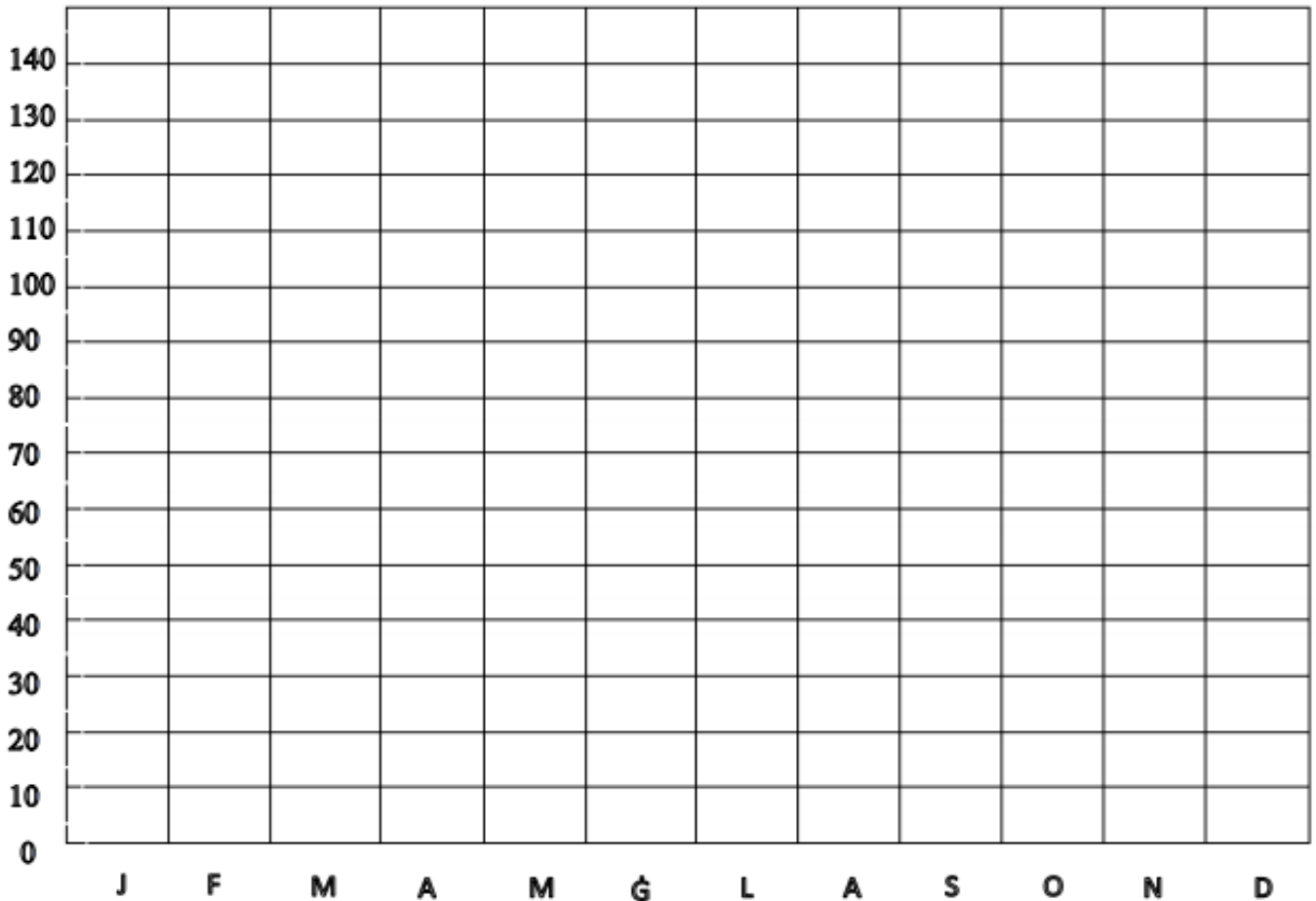
Blat impermeabbli: _____

(4)

d) Agħti eżempju ta' **żewġ** tipi ta' blat permeabbli f'Malta:

(2)

4 a) Fares lejn il-qari tax-xita mogħtija hawn taħt u wara pingi graff bil-blokok b'dawn iċ-ċifri.



Disinn 3

Xhur	J	F	M	A	M	Ġ	L	A	S	O	N	D
Xita (mm)	115	70	40	25	5	0	0	5	85	65	80	95

(6)

b) Fuq il-graff, iktieb dawn it-titli fil-post it-tajjeb: Xita (mm), Xhur (2)

ċ) Wieġeb dawn il-mistoqsijiet:

i. Liema xahrejn huma l-iktar xotti? _____ (2)

ii. Kemm għamlet xita fix-xahar ta' Mejju? _____ (2)

5 a) Id-disinn t' hawn taht juri kif jidher għar taht l-art. Poġġi l-kliem t' hawn taht fil-post it-tajjeb fid-disinn 4.

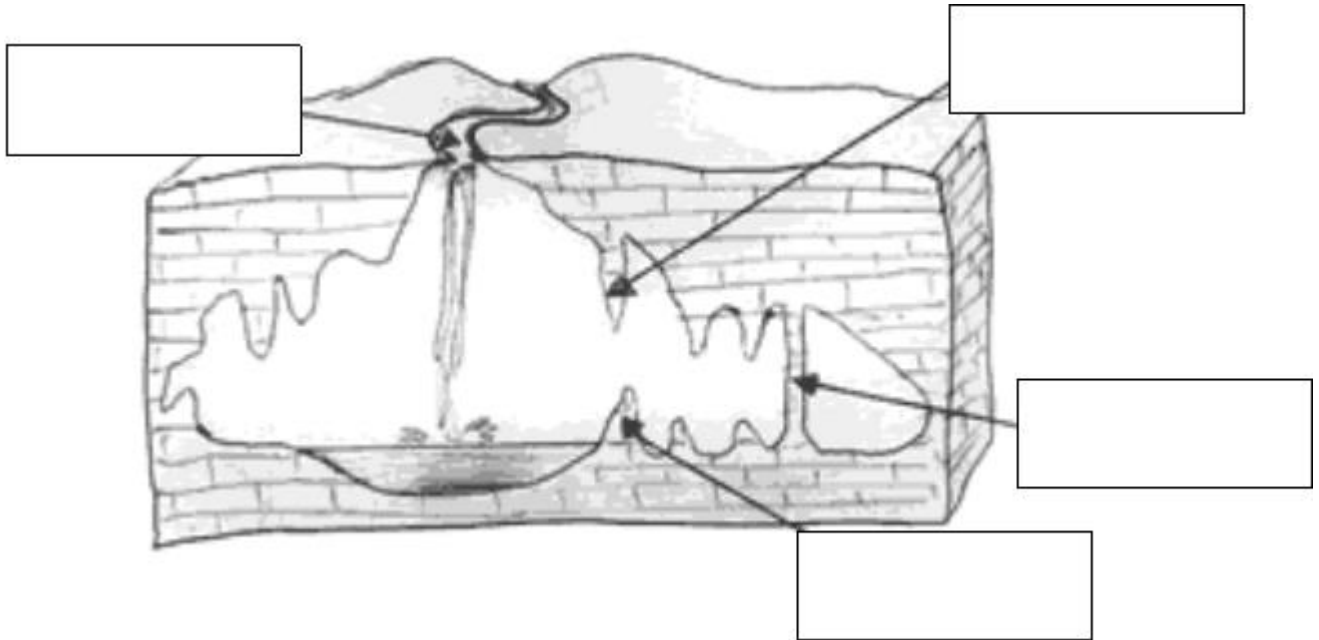
stalaktita

stalagmita

plier

belgħa tal-ilma

(4)



Disinn 4

b) Spjega kif jiformaw għerien ta' taht l-art.

(4)

ċ) Semmi għar ta' taht l-art magħruf f' Malta jew barra minn Malta.

(2)

5 a) Fares lejn l-istampi dwar l-istrumenti tat-temp u imla l-vojt billi tuża dawn il-kliem:

24	anemometru	lqugh ta' Stevenson	minima	termometru
ir-riħ	massima	kontenitur	3	is-saħħa
pluvjometru	jitbattal	xita		

i) L-istrument li jidher hawn taħt jissejjaħ _____ . Dan jintuża



biex jitkejjel l-ammont ta' _____ li tinżel kull _____ siegħa. Ix-xita li tinżel tgħaddi mil-lembut u tingabar f' _____ li jkollu l-kejl fuqu. Il-livell tal-ilma jinqara kuljum qabel il-kontenitur _____ .

ii) Dan l-istrument li jidher hawn taħt jissejjaħ _____ . Huwa



magħmul minn _____ jew 4 kikkri li jintużaw biex jitkejjel _____ tar-riħ. Dawn il-kikkri jibdew iduru meta jonfoħ _____ .

iii) Dan l-istrument t'hawn taħt jissejjaħ _____ u jinżamm



għewwa l- _____ .

Huwa termometru speċjali għax kuljum jirreġistra kemm l-għola temperatura jew it-temperatura _____ u l-anqas temperatura jew it-temperatura _____ .

(13)

b) Spjega l-aħjar post fejn tpoġġi dawn l-istrumenti tat-temp:

L-anemometru: _____

Il-pluvjometru: _____

_____ (4)

6) Disinn 5 qiegħed juri l-qugh ta' Stevenson. Spjega għaliex din il-kaxxa:



Disinn 5

i) Għandha kull ġenb ivventilat.

ii) Tinsab metru 'l fuq mill-art.

iii) Is-saqaf huwa mxengel.

(6)

7) Disinn 6 qiegħed juri strument tat-temp. Ikteb 3 sentenzi fuqu.



Disinn 6

(6)

Tmiem